

(Cognome)

(Nome)

(Matricola)

Esercizio 1. Una sartoria produce 3 tipi di vestiti: pantaloni, gonne e giacche, utilizzando stoffa e filo. Settimanalmente, la disponibilità delle materie prime impiegate nella produzione è pari a 70 m di stoffa e 100 m di filo. Il costo al metro delle materie prime è rispettivamente di 8 euro e di 0.30 euro. La produzione di un paio di pantaloni richiede 2.5 m di stoffa e 3 m di filo, la produzione di una gonna richiede 1.5 m di stoffa e 1.5 m di filo, mentre la produzione di una giacca richiede 3.5 m di stoffa e 5 m di filo. I prezzi di vendita sono 40 euro per un paio di pantaloni, 30 euro per una gonna e 70 euro per una giacca. Determinare la produzione settimanale che massimizza il profitto sapendo che, per soddisfare la richiesta di un negozio, la sartoria deve produrre almeno 5 pantaloni, 3 gonne e 2 giacche.

Variabili decisionali:

Modello:

Esercizio 2. Completare la seguente tabella considerando il problema di programmazione lineare:

$$\begin{cases} \min 12 y_2 - 2 y_3 - 3 y_4 + 10 y_6 \\ -4 y_2 + y_3 + 2 y_4 + y_5 - 3 y_6 = -1 \\ y_1 - 3 y_2 + y_3 + y_4 - 2 y_6 = -5 \\ y \geq 0 \end{cases}$$

Base	Soluzione di base	Ammissibile (si/no)	Degenera (si/no)
{2, 3}	$x =$		
{2, 4}	$y =$		

Esercizio 3. Effettuare due iterazioni dell'algoritmo del simplesso duale per il problema dell'esercizio 2.

	Base	x	y	Indice entrante	Rapporti	Indice uscente
1° iterazione	{4,6}					
2° iterazione						

Esercizio 4. Si consideri il seguente problema di programmazione lineare intera:

$$\begin{cases} \min 11 x_1 + 7 x_2 \\ 17 x_1 + 16 x_2 \geq 60 \\ 7 x_1 + 12 x_2 \geq 42 \\ x_1 \geq 0 \\ x_2 \geq 0 \\ x_1, x_2 \in \mathbb{Z} \end{cases}$$

a) Calcolare una valutazione inferiore del valore ottimo risolvendo il rilassamento continuo.

sol. ottima del rilassamento =	$v_I(P) =$
--------------------------------	------------

b) Calcolare una valutazione superiore del valore ottimo arrotondando la soluzione ottima del rilassamento.

sol. ammissibile =	$v_S(P) =$
--------------------	------------

c) Calcolare un taglio di Gomory.

r =	taglio:
-----	---------

Esercizio 5. Si consideri il problema di trovare il ciclo hamiltoniano di costo minimo su una rete di 5 città, le cui distanze reciproche sono indicate in tabella:

città	2	3	4	5
1	19	17	18	21
2		22	16	20
3			34	35
4				14

a) Trovare una valutazione inferiore del valore ottimo calcolando l'1-albero di costo minimo.

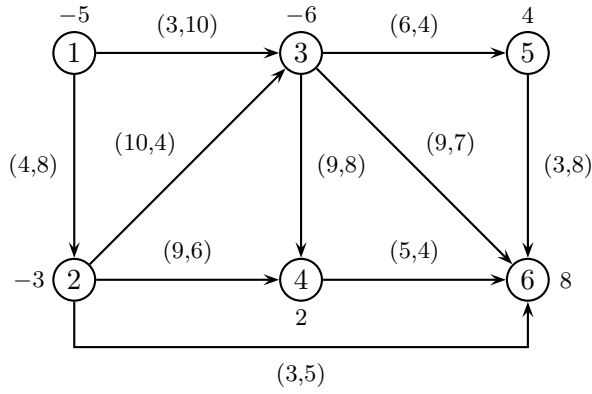
1-albero:	$v_I(P) =$
-----------	------------

b) Trovare una valutazione superiore applicando l'algoritmo del nodo più vicino a partire dal nodo 2.

ciclo:	$v_S(P) =$
--------	------------

c) Applicare il metodo del *Branch and Bound*, utilizzando l'1-albero di costo minimo come rilassamento di ogni sottoproblema ed istanziando, nell'ordine, le variabili x_{34} , x_{35} , x_{45} .

Esercizio 6. Completare la seguente tabella considerando il problema di flusso di costo minimo sulla seguente rete (su ogni nodo è indicato il bilancio e su ogni arco sono indicati, nell'ordine, il costo e la capacità).

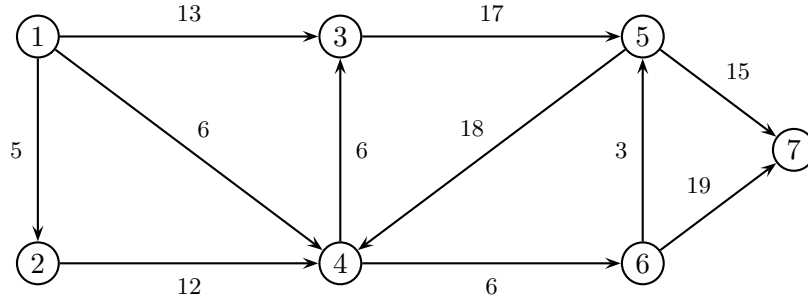


Archi di T	Archi di U	Soluzione di base	Ammissibile (si/no)	Degenerare (si/no)
(1,2) (2,3) (2,4) (3,5) (4,6)	(1,3) (5,6)	$x =$		
(1,3) (2,3) (3,4) (3,5) (5,6)	(1,2) (4,6)	$\pi = (0,$		

Esercizio 7. Effettuare due iterazioni dell'algoritmo del simplesso su reti per il problema dell'esercizio 6.

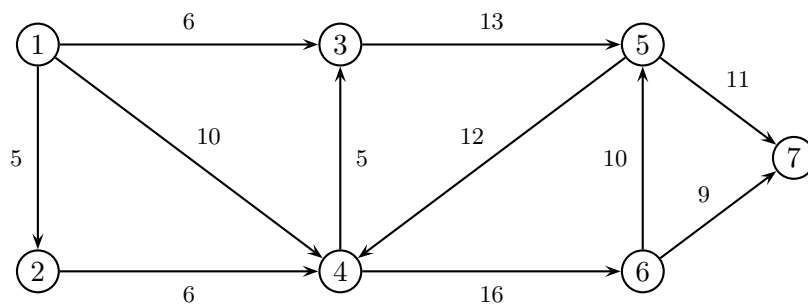
	1° iterazione	2° iterazione
Archi di T	(1,2) (1,3) (2,6) (3,4) (3,5)	
Archi di U	(2,3) (3,6)	
x		
π		
Arco entrante		
ϑ^+, ϑ^-		
Arco uscente		

Esercizio 8. a) Applicare l'algoritmo di Dijkstra per trovare l'albero dei cammini minimi di radice 1 sulla seguente rete.



	iter 1		iter 2		iter 3		iter 4		iter 5		iter 6		iter 7	
	π	p	π	p	π	p	π	p	π	p	π	p	π	p
nodo visitato														
nodo 2														
nodo 3														
nodo 4														
nodo 5														
nodo 6														
nodo 7														
insieme Q														

b) Applicare l'algoritmo di Ford-Fulkerson (con la procedura di Edmonds-Karp per la ricerca del cammino aumentante) per trovare il flusso massimale tra il nodo 1 ed il nodo 7 sulla seguente rete.



cammino aumentante	δ	x	v

Taglio di capacità minima: $N_s =$ $N_t =$

SOLUZIONI

Esercizio 1. Variabili decisionali:

x_1 = numero di pantaloni

x_2 = numero di gonne

x_3 = numero di giacche

Modello:

$$\begin{cases} \max & 40x_1 + 30x_2 + 70x_3 - 8(2.5x_1 + 1.5x_2 + 3.5x_3) - 0.3(3x_1 + 1.5x_2 + 5x_3) \\ & 2.5x_1 + 1.5x_2 + 3.5x_3 \leq 70 \\ & 3x_1 + 1.5x_2 + 5x_3 \leq 100 \\ & x_1 \geq 5 \\ & x_2 \geq 3 \\ & x_3 \geq 2 \\ & x_1, x_2, x_3 \in \mathbb{Z} \end{cases}$$

Esercizio 2.

Base	Soluzione di base	Ammissibile (si/no)	Degenera (si/no)
{2, 3}	$x = (-6, 4)$	NO	SI
{2, 4}	$y = \left(0, \frac{9}{2}, 0, \frac{17}{2}, 0, 0\right)$	SI	NO

Esercizio 3.

	Base	x	y	Indice entrante	Rapporti	Indice uscente
1° iterazione	{4, 6}	(4, -11)	(0, 0, 0, 13, 0, 9)	2	$13, \frac{9}{2}$	6
2° iterazione	{2, 4}	$\left(\frac{3}{2}, -6\right)$	$\left(0, \frac{9}{2}, 0, \frac{17}{2}, 0, 0\right)$	5	$9, \frac{17}{3}$	4

Esercizio 4.

a) sol. ottima del rilassamento = $\left(0, \frac{15}{4}\right)$ $v_I(P) = 27$

b) sol. ammissibile = (0, 4) $v_S(P) = 28$

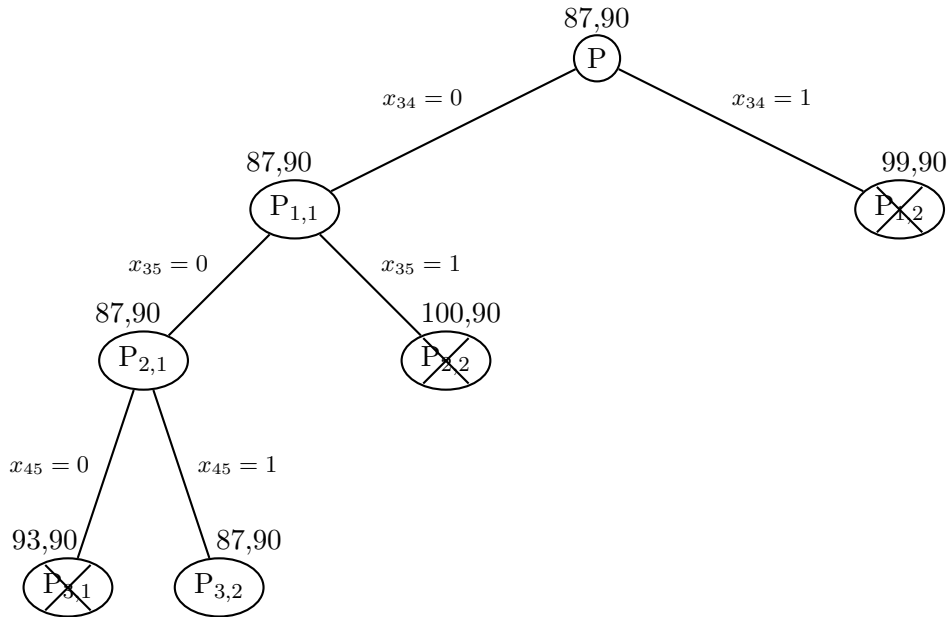
c) $r = 2$ $16x_1 + 15x_2 \geq 57$

Esercizio 5.

a) 1-albero: $(1, 3) (1, 4) (2, 3) (2, 4) (4, 5)$ $v_I(P) = 87$

b) ciclo: $2 - 4 - 5 - 1 - 3$ $v_S(P) = 90$

c)



Esercizio 6.

Archi di T	Archi di U	Soluzione di base	Ammissibile (si/no)	Degenerare (si/no)
$(1,2) (2,3) (2,4) (3,5) (4,6)$	$(1,3) (5,6)$	$x = (-5, 10, -4, 2, 0, 0, 12, 0, 0, 8)$	NO	SI
$(1,3) (2,3) (3,4) (3,5) (5,6)$	$(1,2) (4,6)$	$\pi = (0, -7, 3, 12, 9, 12)$	NO	SI

Esercizio 7.

	1° iterazione	2° iterazione
Archi di T	$(1,2) (1,3) (2,6) (3,4) (3,5)$	$(1,3) (2,3) (2,6) (3,4) (3,5)$
Archi di U	$(2,3) (3,6)$	$(3,6)$
x	$(2, 3, 4, 0, 1, 2, 4, 7, 0, 0)$	$(0, 5, 2, 0, 1, 2, 4, 7, 0, 0)$
π	$(0, 4, 3, 12, 9, 7)$	$(0, -7, 3, 12, 9, -4)$
Arco entrante	$(2,3)$	$(2,4)$
ϑ^+, ϑ^-	$7, 2$	$6, 2$
Arco uscente	$(1,2)$	$(2,3)$

Esercizio 8.

a)

	iter 1		iter 2		iter 3		iter 4		iter 5		iter 6		iter 7	
	π	p	π	p	π	p	π	p	π	p	π	p	π	p
nodo visitato	1		2		4		3		6		5		7	
nodo 2	5	1	5	1	5	1	5	1	5	1	5	1	5	1
nodo 3	13	1	13	1	12	4	12	4	12	4	12	4	12	4
nodo 4	6	1	6	1	6	1	6	1	6	1	6	1	6	1
nodo 5	$+\infty$	-1	$+\infty$	-1	$+\infty$	-1	29	3	15	6	15	6	15	6
nodo 6	$+\infty$	-1	$+\infty$	-1	12	4	12	4	12	4	12	4	12	4
nodo 7	$+\infty$	-1	$+\infty$	-1	$+\infty$	-1	$+\infty$	-1	31	6	30	5	30	5
insieme Q	2, 3, 4		3, 4		3, 6		5, 6		5, 7		7		\emptyset	

b)

cammino aumentante	δ	x	v
1 - 3 - 5 - 7	6	(0, 6, 0, 0, 6, 0, 0, 0, 6, 0, 0)	6
1 - 4 - 6 - 7	9	(0, 6, 9, 0, 6, 0, 9, 0, 6, 0, 9)	15
1 - 4 - 3 - 5 - 7	1	(0, 6, 10, 0, 7, 1, 9, 0, 7, 0, 9)	16
1 - 2 - 4 - 3 - 5 - 7	4	(4, 6, 10, 4, 11, 5, 9, 0, 11, 0, 9)	20

Taglio di capacità minima: $N_s = \{1, 2, 3, 4, 5, 6\}$ $N_t = \{7\}$